

## **REGIONE LOMBARDIA**

**Concorso pubblico, per esami, per la copertura di n. 100 posti, con contratto di assunzione a tempo pieno ed indeterminato, nella categoria giuridica D – specialista area tecnica presso la Giunta di Regione Lombardia esperto in DISCIPLINE AGRICOLE E FORESTALI**

### **PROVA 03**



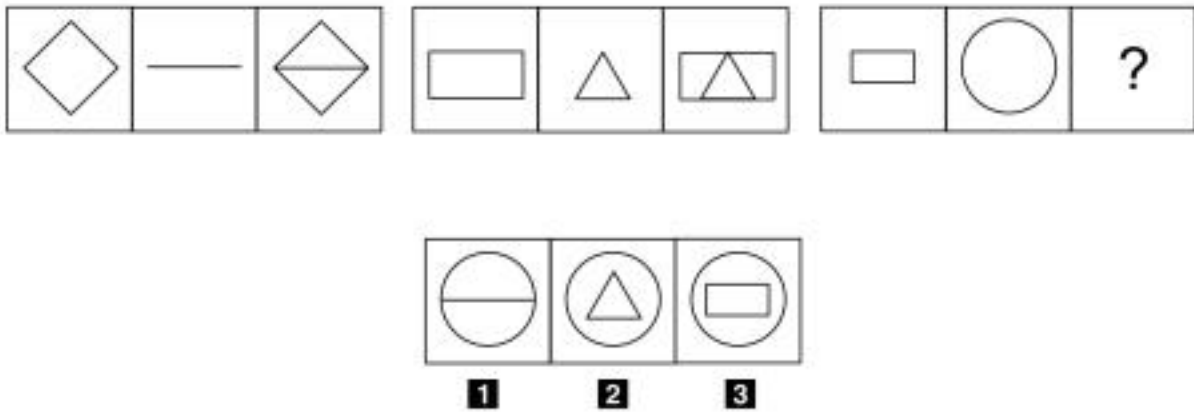
Prodotto con cellulosa certificata  
FSC

**AZIENDA CON SISTEMA  
DI GESTIONE QUALITÀ  
CERTIFICATO DA DNV  
= ISO 9001 =**

- 1 Completare correttamente la seguente successione numerica: ?; ?; 38; 63; 43; 66; 48; 69
- A** 33; 60  
**B** 58; 35  
**C** 60; 33

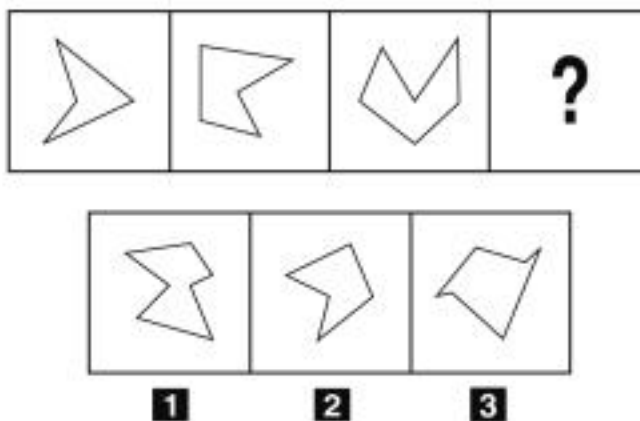
- 2 Quale, tra i termini proposti, completa correttamente la seguente proporzione verbale? Delfino : mammifero = rana : X
- A** X = anfibio  
**B** X = rettile  
**C** X = girino

FIGURA TT 76



- 3 Rispondere al seguente quesito facendo riferimento alla FIGURA TT 76  
 Individuare la figura che completa correttamente la serie.
- A** Figura 3  
**B** Figura 2  
**C** Figura 1

FIGURA SN 00



- 4 Rispondere al seguente quesito facendo riferimento alla FIGURA SN 00 A00006  
**Individuare la figura che completa la serie.**  
**A** Figura 1  
**B** Figura 2  
**C** Figura 3

- 5 A00007  
**L'Accesso civico generalizzato (o accesso FOIA):**  
**A** consente a chiunque di richiedere dati e documenti ulteriori rispetto a quelli che le amministrazioni sono obbligate a pubblicare  
**B** consente a chiunque di richiedere documenti, dati o informazioni che le amministrazioni hanno l'obbligo di pubblicare nella sezione "Amministrazione trasparente" dei propri siti istituzionali, nei casi in cui gli stessi non siano stati pubblicati  
**C** consente esclusivamente a soggetti aventi un interesse concreto, diretto e attuale di richiedere dati e documenti ulteriori rispetto a quelli che le amministrazioni sono obbligate a pubblicare

- 6 A00011  
**Il piastrellista Otto pavimenta una stanza con X piastrelle rettangolari di dimensioni 9 x 4 cm, il cui costo unitario è 2,4 euro. Il piastrellista Fedele pavimenta una stanza della stessa dimensione ma usando piastrelle da 5 x 8 cm, dal costo unitario di 3,2 euro. Quale rivestimento è costato di meno?**  
**A** Quello utilizzato dal piastrellista Otto  
**B** Quello utilizzato dal piastrellista Fedele  
**C** Quello utilizzato dal piastrellista Fedele, che è costato meno della metà del piastrellista Otto

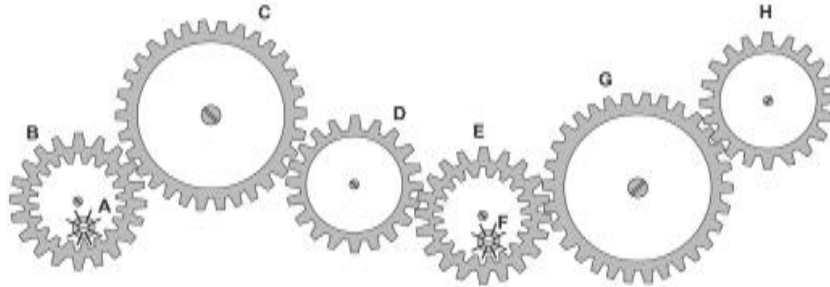
- 7 A00013  
**La Costituzione italiana ammette che le Regioni possono concludere intese con enti territoriali interni ad altro Stato:**  
**A** nelle materie di loro competenza, nei casi e con le forme disciplinati da leggi dello Stato  
**B** esclusivamente nell'ambito di progetti comunitari recepiti dalle Regioni stesse  
**C** previo parere vincolante del ministero degli Esteri

- 
- A00014
- 8 **Ai sensi del comma 1 dell'art. 101 della l.r. 31/08, chi rilascia le autorizzazioni gratuite per la raccolta di funghi per motivi scientifici, di studio e di ricerca, in occasione di mostre, di seminari, per i corsi propedeutici e per le necessità di aggiornamento dei micologi in deroga ai divieti previsti dalla l.r. 31/08?**
- A** La Regione
  - B** Le Province e le Comunità Montane
  - C** I Comuni
- 
- A00018
- 9 **Ai sensi del Reg. (UE) 1305/2013, quale quota parte delle risorse totali del programma di sviluppo rurale deve essere destinata alla mitigazione dei cambiamenti climatici e dei problemi di natura ambientale?**
- A** Almeno il 30%
  - B** Al massimo il 15%
  - C** Nessuna percentuale è stata fissata
- 
- A00020
- 10 **Entro quale termine temporale la Commissione Europea ai sensi dell'art. 38 del Reg. (UE) 1306/2013 può procedere al disimpegno automatico della parte delle risorse impegnate a favore di un determinato Programma di Sviluppo Rurale non ancora spese per un determinato anno?**
- A** entro il 31 dicembre del terzo anno successivo all'anno dell'impegno di bilancio
  - B** Entro il 31 dicembre dell'ultimo anno del periodo di programmazione
  - C** Entro il 15 maggio del quinto anno del periodo di programmazione
- 
- A00022
- 11 **L'art. 63 del Reg. (UE) 1307/2013 stabilisce che l'importo del pagamento annuo per ciascun agricoltore che partecipa al regime per i piccoli agricoltori è:**
- A** non inferiore a euro 500 e non superiore a euro 1.250
  - B** maggiore di euro 5.000
  - C** maggiore di euro 50.000
- 
- A00023
- 12 **Ai sensi dell'art. 62 del Reg. (UE) 1308/2013, con quale delle seguenti modalità un'impresa può ottenere un'autorizzazione di nuovo impianto di un vigneto per uva da vino?**
- A** Da assegnazione gratuita a seguito di partecipazione a bando nazionale
  - B** Da assegnazione a pagamento a seguito di partecipazione a bando nazionale
  - C** Acquistandola sul libero mercato
- 
- A00024
- 13 **Quale fondo agricolo comunitario finanzia le Organizzazioni Comuni di Mercato ai sensi del Reg. (UE) 1308/2013?**
- A** FEAGA
  - B** FEASR
  - C** FESR

- 14 Con l'applicazione della deroga concessa dal Reg. (UE) 2019/316, l'importo complessivo degli aiuti "de minimis" concessi da uno Stato membro a un'impresa agricola unica NON può superare:
- A** 25.000 euro in tre anni
  - B** 100.000 euro in tre anni
  - C** 500.000 euro in tre anni

### FIGURA ST 86

Nel sistema raffigurato, le ruote dentate sono libere di ruotare attorno a un perno fisso.



- 15 Rispondere al seguente quesito facendo riferimento alla FIGURA ST 86 A00029
- Se la ruota dentata B gira in senso antiorario, in quale senso gira la ruota dentata C?
- A** Nello stesso senso della ruota dentata H
  - B** In senso antiorario
  - C** In senso inverso rispetto alla ruota dentata H

- 16 Secondo la Costituzione italiana, si possono fondere due Regioni già esistenti per crearne una sola? A00030
- A** Sì, rispettando la procedura prevista dalla stessa Costituzione
  - B** Sì, purché si abbia il consenso dei Presidenti delle Regioni interessate
  - C** Sì, secondo la procedura prevista dalla Costituzione, purché si tratti di Regioni a statuto ordinario

- 17 A00035
- Quattro colleghi sono nati nel 1955, ma in quattro mesi diversi. Si sa che: 1) Veronica festeggia il suo compleanno in Giugno; 2) Leonardo festeggia il compleanno due mesi dopo Davide; 3) Giulia festeggia il compleanno prima di Veronica ma dopo Leonardo, e 4) che Davide festeggia il compleanno in Febbraio. In quale mese festeggia il compleanno Giulia?
- A** Maggio
  - B** Giugno
  - C** Luglio

- 
- A00036**
- 18** In base allo Statuto della Regione Lombardia, la Regione riconosce quali formazioni sociali in cui si svolge la personalità dell'individuo:
- A** le confessioni religiose riconosciute dall'ordinamento
  - B** tutte le confessioni religiose
  - C** le confessioni religiose riconosciute dalla stessa Regione
- 
- A00037**
- 19** Estraendo una carta da un mazzo da 40 carte, qual è la probabilità che sia una figura?
- A** 3/10
  - B** 3/5
  - C** 10/3
- 
- A00038**
- 20** Ai sensi della legge 241/1990, la Pubblica Amministrazione può aggravare il procedimento?
- A** Solo per straordinarie e motivate esigenze imposte dallo svolgimento dell'istruttoria
  - B** Sì, qualora ciò sia giustificato da un risparmio per l'erario pubblico
  - C** Sempre, sulla base di motivazioni certificate dal Responsabile del Procedimento
- 
- A00040**
- 21** In base all'articolo 64 dello Statuto della Regione Lombardia, per la votazione finale della legge regionale statutaria è richiesta:
- A** la maggioranza assoluta
  - B** la maggioranza semplice
  - C** la maggioranza dei 2/3 dei votanti
- 
- A00044**
- 22** In base all'articolo 1 del d.lgs. 39/2013, il soggetto che si trova in una situazione di incompatibilità di incarichi deve effettuare la sua scelta nel termine di:
- A** 15 giorni
  - B** 365 giorni
  - C** può esercitare liberamente, senza esercitare alcuna opzione
- 
- B00003**
- 23** Se l'affermazione "Tutti gli alpinisti odiano il mare" è FALSA, quale delle seguenti proposizioni è necessariamente vera?
- A** Esiste almeno un alpinista che non odia il mare
  - B** Tutti gli alpinisti amano il mare
  - C** Almeno un alpinista odia il mare
- 
- B00006**
- 24** Se 4 pasticciere preparano 52 crêpes in 20 minuti, lavorando allo stesso ritmo quante crêpes prepareranno 5 pasticciere in un'ora?
- A** 195 crêpes
  - B** 156 crêpes
  - C** 234 crêpes
-

- 
- 25 B00007  
L'impasto per la pasta fresca si prepara con 520 g di farina. Sapendo che il numero di uova previste da questa ricetta pesa 286 g, quale sarà la percentuale di uova sul totale del peso della farina in questo impasto?
- A** 55%
  - B** 50%
  - C** 60%
- 
- 26 B00009  
Non esiste un fiore della varietà della stella alpina che sia di colore pistacchio. Ne segue logicamente che:
- A** se un fiore è di colore pistacchio, vuol dire che non è della varietà della stella alpina
  - B** tutti i fiori della varietà della stella alpina sono di colore pistacchio
  - C** tutti i fiori della varietà della stella alpina sono di colore carminio
- 
- 27 B00011  
In base all'articolo 43 dello Statuto della Regione Lombardia, se non diversamente previsto, i regolamenti della Regione entrano in vigore:
- A** il giorno successivo alla loro pubblicazione
  - B** il quindicesimo giorno successivo alla loro pubblicazione
  - C** il giorno stesso della loro pubblicazione
- 
- 28 B00014  
Il d.lgs. 33/2013 fissa un termine per la conclusione del procedimento di accesso civico?
- A** Sì, 30 giorni dalla comunicazione dell'istanza
  - B** Sì, 15 giorni dalla comunicazione dell'istanza
  - C** Sì, 7 giorni dalla comunicazione dell'istanza
- 
- 29 B00017  
Secondo l'art. 33 della l.r. 31/08, chi svolge le funzioni concernenti i rapporti con il MIPAAF e la UE?
- A** La Regione
  - B** Gli Enti delegati (Comunità Montane e province)
  - C** La Regione e le Province (queste ultime per il territorio di loro competenza)
- 
- 30 B00018  
Ai sensi dell'art. 37 della l.r. 26/93, chi può praticare l'esercizio venatorio nei cosiddetti "fondi chiusi" delimitati a sensi di legge?
- A** Nessuno
  - B** Solo il proprietario dei fondi
  - C** Solo il conduttore dei fondi
- 
- 31 B00019  
A chi può essere concesso il sostegno per gli investimenti non produttivi previsti dall'art. 17 del Reg. (UE) 1305/2013?
- A** A tutti i soggetti gestori del territorio, inclusi gli agricoltori e le loro associazioni
  - B** Ai soli agricoltori o le associazioni di agricoltori
  - C** Ai soli soggetti gestori del territorio diversi dagli agricoltori
-

- 
- 32 **B00021**  
L'art. 29 del Reg. (UE) 1305/2013 sostiene l'agricoltura biologica. Il sostegno ai sensi di tale regolamento può essere concesso per:
- A** l'adozione o il mantenimento di metodi e pratiche di produzione biologica
  - B** il solo mantenimento di metodi e pratiche di produzione biologica
  - C** la vendita di prodotti da agricoltura biologica
- 
- 33 **B00023**  
Quale fondo comunitario finanzia gli aiuti diretti ai sensi del Reg. (UE) 1307/2013?
- A** FEAGA
  - B** FEASR
  - C** FSE
- 
- 34 **B00027**  
Ai sensi dell'art. 6 del d.lgs. n. 102/2004, l'esistenza del carattere di eccezionalità delle calamità naturali è dichiarata:
- A** dal Ministero delle politiche agricole, alimentari e forestali su richiesta della Regione o della Provincia Autonoma
  - B** dai Comuni interessati
  - C** dalla Commissione Europea su richiesta della Regione
- 
- 35 **B00029**  
Quali tra le seguenti pratiche agronomiche possono essere definite pratiche conservative dei terreni agrari?
- A** La riduzione delle lavorazioni del terreno combinata con l'eventuale introduzione di colture di copertura nelle rotazioni colturali
  - B** Il mantenimento delle sistemazioni idraulico agrarie dei terreni e degli elementi caratteristici del paesaggio agrario
  - C** La conservazione di siepi, filari, aree umide e formazioni vegetali per la protezione della fauna selvatica
- 
- 36 **B00030**  
Cosa si intende per quota di rimonta in un allevamento bovine da latte?
- A** La quota di giovani bovine femmine destinate a sostituire le bovine a fine carriera
  - B** La quota di bovine prossime al parto
  - C** La quota di bovine a fine carriera
- 
- 37 **B00033**  
In base alla Costituzione italiana, la funzione legislativa della Regione è esercitata:
- A** dal Consiglio regionale
  - B** dal Consiglio regionale congiuntamente alla Giunta regionale
  - C** dalla Giunta regionale
- 
- 38 **B00034**  
Il gruppo 4678(0)8764 può considerarsi simmetrico con (0) al centro. Quale tra i seguenti è altrettanto simmetrico?
- A** 389753124(0)421357983
  - B** 164213579(0)973512461
  - C** 023456789(0)987564230
-



- 39 Completare correttamente la seguente successione, utilizzando l'alfabeto italiano: E; 9; R; 10; F; 19; S; 29; ?; ?
- A** G; 48
  - B** R; 57
  - C** I; 60

- 40 Quanti sono gli anagrammi, anche senza senso compiuto, della parola ARIDO?
- A** 120
  - B** 5
  - C** 25

- 41 In base all'articolo 114 della Costituzione italiana, la Repubblica è costituita da tutti i seguenti elementi, TRANNE:
- A** le isole
  - B** i Comuni
  - C** le Province

- 42 Ai sensi della legge 241/1990, si può prescindere dall'obbligo di comunicazione dell'avvio del procedimento amministrativo:
- A** quando ricorrono particolari ragioni di celerità
  - B** per i provvedimenti di autotutela della Pubblica Amministrazione
  - C** solo per i provvedimenti discrezionali

- 43 Ai sensi della legge 241/1990, l'istruttoria del procedimento è assegnata:
- A** dal dirigente
  - B** dal Presidente della Regione
  - C** dal Segretario generale dell'ente

- 44 In base all'articolo 13 dello Statuto della Regione Lombardia, il consigliere regionale, in relazione alle interrogazioni presentate, ha il diritto di:
- A** ottenere risposte in tempi certi
  - B** ottenere risposte entro il termine di un anno dalla presentazione
  - C** ottenere indennizzi

- 45 È previsto nel d.lgs. 33/2013 l'obbligo per le pubbliche amministrazioni di pubblicare le informazioni identificative degli immobili posseduti e di quelli detenuti?
- A** Sì, è previsto
  - B** No, non è previsto
  - C** Solo degli immobili che sono oggetto di compravendita

